

LİSANS YERLEŞTİRME SINAVI-4

SOSYAL BİLİMLER SINAVI

COĞRAFYA-2 TESTİ SORU KİTAPÇIĞI

20 HAZİRAN 2010

**BU SORU KİTAPÇIĞI 20 HAZİRAN 2010 LYS-4
COĞRAFYA-2 TESTİ SORULARINI İÇERMEKTEDİR.**

Bu testlerin her hakkı saklıdır. Hangi amaçla olursa olsun, testlerin tamamının veya bir kısmının Merkezimizin yazılı izni olmadan kopya edilmesi, fotoğrafının çekilmesi, herhangi bir yolla çoğaltılması, yayımlanması ya da kullanılması yasaktır. Bu yasağa uymayanlar gerekli cezai sorumluluğu ve testlerin hazırlanmasındaki mali külfeti peşinen kabullenmiş sayılır.

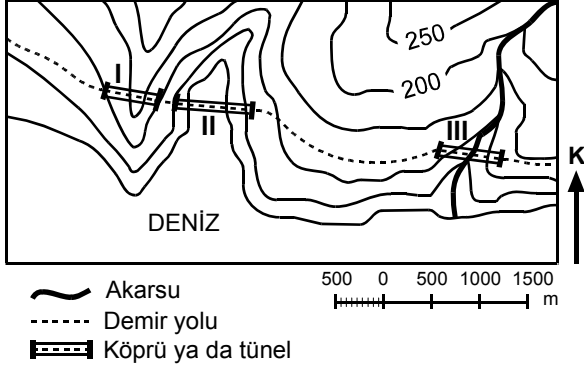
COĞRAFYA-2 TESTİ

1. Bu testte 16 soru vardır.

2. Cevaplarınızı, cevap kâğıdının Coğrafya-2 Testi için ayrılan kısmına işaretleyiniz.

2010 – LYS4 / COĞ-2

1. Aşağıdaki topoğrafya haritasında, bir yörede yapımı planlanan demir yolunun güzergâhıyla bu güzergâhta yapılacak köprüler ve tüneller gösterilmiştir.



Bu güzergâhtaki yer şekillerinden kaynaklanan engelleri aşmak için I, II ve III numaralı yerlerden hangilerine köprü, hangilerine tünel yapılmalıdır?

- | | I | II | III |
|----|-------|-------|-------|
| A) | Köprü | Tünel | Köprü |
| B) | Köprü | Tünel | Tünel |
| C) | Tünel | Köprü | Köprü |
| D) | Tünel | Köprü | Tünel |
| E) | Köprü | Köprü | Tünel |

2. Aşağıdaki tabloda, Türkiye’de hava koşullarının mevsim normallerinde seyrettiği temmuz ayındaki bir günde K, L ve M kentlerindeki meteoroloji istasyonlarında yapılan ölçümler gösterilmiştir.

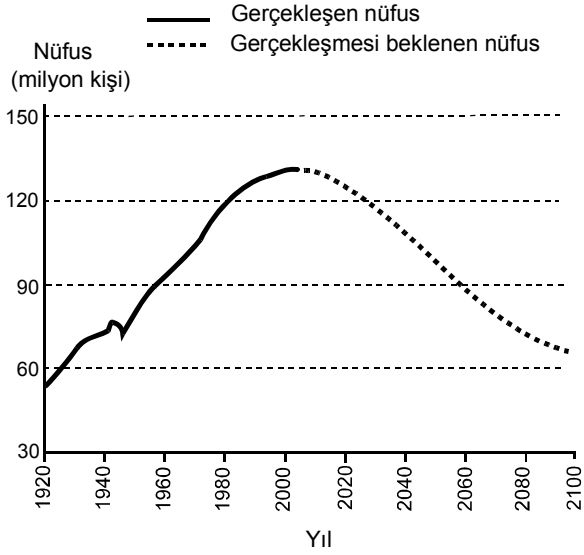
	Günün en düşük sıcaklığı (°C)	Günün en yüksek sıcaklığı (°C)	Gün içindeki ortalama bağıl nem değeri (%)
K	28	38	71
L	19	24	82
M	20	40	28

Buna göre K, L ve M, aşağıdakilerin hangisinde verilen kentler olabilir?

- | | K | L | M |
|----|---------|---------|-----------|
| A) | Mersin | Trabzon | Samsun |
| B) | Antalya | Rize | Şanlıurfa |
| C) | Muğla | Bayburt | Batman |
| D) | Ardahan | Giresun | Konya |
| E) | Ordu | Adana | Aydın |

Diğer sayfaya geçiniz.

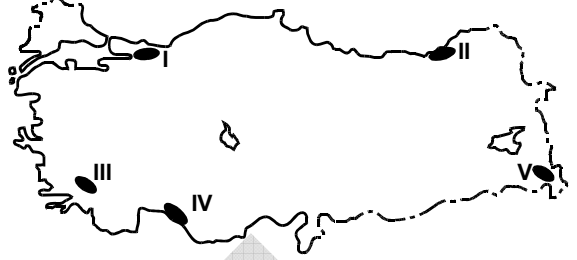
3. Aşağıdaki grafikte, Japonya'nın 1920-2005 yılları arasındaki nüfusu ve bugünkü nüfus politikası sürdürüldüğünde 2100 yılına kadar gerçekleşmesi beklenen nüfusu gösterilmiştir.



Bu beklentinin gerçekleşmesi durumunda Japonya'da, 2005 yılından sonra aşağıdakilerin hangisinde artış görüleceği savunulabilir?

- A) Yaşlı nüfus oranında
B) Aktif nüfus miktarında
C) Nüfus yoğunluğunda
D) Doğum oranında
E) Erkek nüfus oranında

4. Aşağıda, haritada numaralarla gösterilmiş beş yöre ve bu yörelerden dördüne ait nüfus özellikleri verilmiştir.



- Dağların kıyının hemen gerisinden yükselmesi, nüfusun dar kıyı şeridinde toplanmasına neden olmuştur.
- Deniz turizmüne bağlı olarak nüfusu mevsimden mevsime değişiklik gösterir.
- Endüstri bölgesi olması nedeniyle nüfus yoğunluğu fazladır.
- İklim koşulları elverişli olmasına karşın dağlık ve engebeli olması nedeniyle nüfus yoğunluğu azdır.

Buna göre yukarıda, kaç numarayla gösterilen yörenin nüfus özelliği yoktur?

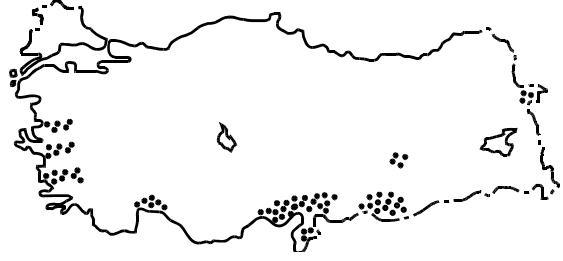
- A) I B) II C) III D) IV E) V

5. Göç, farklı nedenlerden dolayı birey veya toplulukların sürekli ya da geçici olarak yer değiştirmesi olayıdır. Göçe neden olan çok sayıda etken olmakla birlikte, bunlar üç ana grupta toplanabilir. Kimi zaman deprem, volkanik olaylar, sel, taşkın, heyelan ve tropikal fırtınalar gibi doğa olayları göçlere neden olurken kimi zaman da savaşlar, iç karışıklıklar, ihtilaller ve dinî nedenler gibi toplumsal ve siyasal olaylar sonucunda göç yaşanmaktadır. En sık görülen göçler ise birey ya da toplulukların geçim sıkıntısı çekmesinden ya da daha iyi koşullarda yaşamak istemesinden kaynaklanan ekonomik nedenli göçlerdir.

Bu parçaya dayanarak, Türkiye’de görülen aşağıdaki göçlerden hangisinin diğerlerinden farklı bir nedene bağlı olduğu söylenebilir?

- A) İyi eğitim almış kişilerin gelişmiş ülkelere gitmesi ya da eğitimini yurt dışında başarıyla tamamlayan kişilerin o ülkelere yerleşmesi
- B) Lozan Barış Antlaşması gereğince Türkiye ve Yunanistan arasında nüfus değişimi yapılması
- C) 1960’lı yıllardan sonra, iş gücü sıkıntısı çeken Batı Avrupa ülkelerine işçi gönderilmesi
- D) Kırsal kesimde yaşayan ailelerin miras nedeniyle topraklarının küçülmesi sonucu şehirlere yerleşmesi
- E) Yaz aylarında, özellikle Güneydoğu Anadolu Bölgesi’nden birçok insanın, tarım işçisi olarak başka bölgelere gitmesi

6. Aşağıdaki haritada, Türkiye’de pamuk üretiminin yapıldığı alanlar gösterilmiştir.



Buna göre, pamuk üretiminin yapıldığı alanların ortak özelliği aşağıdakilerden hangisidir?

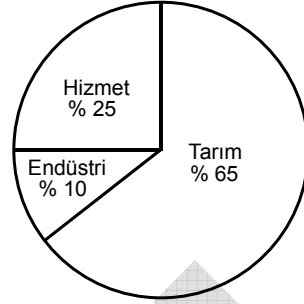
- A) Terra rossa toprak türü yaygındır.
- B) Kış aylarında kar yağışı görülmez.
- C) Ortalama yükselti 100 metreden azdır.
- D) Yaz mevsimi sıcak ve kuraktır.
- E) Yıllık toplam yağış tutarı 1000 milimetrenin üzerindedir.

7. Ortalama yükseltisi oldukça fazla olan bu yörede, dağlık ve engebeli alanlar çok yer tutuyor. Tarım etkinlikleri ancak dağlar arasındaki ovalarda yapılabiliyor. Yöre halkı, yaz mevsiminin kısa, kış mevsiminin uzun ve çok sert geçmesinden dolayı birçok tarım ürününü yetiştirememekten yakınıyor.

Bu parçada sözü edilen yörenin coğrafi koşulları aşağıdaki ürünlerden hangisinin yetiştirilmesi için daha uygundur?

- A) Fındık B) Mercimek C) Arpa
D) Pirinç E) Ayçiçeği

8. Aşağıdaki grafik, bir ülkede çalışan nüfusun ekonomik sektörlere dağılımını göstermektedir.



Buna göre, bu ülkenin en önemli dış alım ve dış satım ürünleri aşağıdakilerden hangisi olabilir?

- | Dış alım | Dış satım |
|-----------------|------------|
| A) Beyaz eşya | Tahıllar |
| B) Petrol | Beyaz eşya |
| C) Otomotiv | Tekstil |
| D) Tahıllar | Pamuk |
| E) Canlı hayvan | Otomotiv |

Diğer sayfaya geçiniz.

9. Türkiye’de, küçük kapalı ekonomik bölgeler içerisinde gerçekleşen iç ticaret etkinliklerinin, 1950’li yıllardan sonra hızla canlılık kazanarak bölgeler arasında yaygınlaşmasında aşağıdakilerden hangisinin etkisi en azdır?

- A) Kırdan kente göçlerle kent nüfuslarının artması
- B) Birçok köy ve kasabanın kent merkezlerine ulaşım koşullarının iyileşmesi
- C) Büyük limanların yükleme ve boşaltma kapasitelerinin artması
- D) İletişim teknolojilerindeki gelişmeler sayesinde halkın farklı tüketim maddeleri hakkında bilgi sahibi olması
- E) Kişi başına düşen ulusal gelir miktarının artması

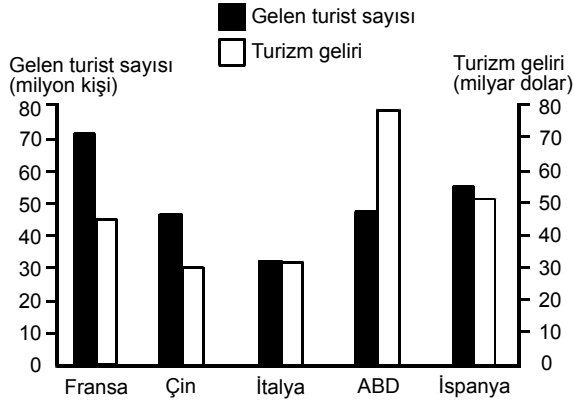
10. Türkiye’deki bir yörenin kıyı kesimlerinde turunçgil tarımı ve yaz turizmi, iç kesimlerinde ise küçükbaş hayvancılık ve yaylacılık yaygındır.

Yalnızca bu bilgilere dayanarak bu yöre ile ilgili aşağıdaki yorumlardan hangisi yapılamaz?

- A) Kıyı kesimlerinde maki alanları yaygındır.
- B) Hem kıyı hem de iç kesimlerinde yaz kuraklığı belirgindir.
- C) Kıyı kesimlerinde yıllık sıcaklık farkı azdır.
- D) Kıyıyla iç kesimler arasında belirgin yükselti farkı vardır.
- E) İç kesimlerinde nüfus yoğunluğu fazladır.

Diğer sayfaya geçiniz.

11. Aşağıdaki grafikte, 2004 yılında bazı ülkelere gelen turist sayıları ve bu ülkelerin turizm gelirleri gösterilmiştir.



Bu grafiğe göre, aşağıdaki bilgilerden hangisi doğrudur?

- A) Turist başına en çok döviz kazanan ülke İtalya'dır.
- B) İtalya'ya gelen turist sayısı Çin'den fazladır.
- C) ABD'nin elde ettiği turizm geliri, grafikteki üç Avrupa ülkesinin toplamından fazladır.
- D) Avrupa'da turizmden en fazla gelir elde eden ülke İspanya'dır.
- E) İtalya'nın turizm geliri, Fransa'dan fazladır.

12. Yeryüzünde doğal, beşerî, ekonomik ve siyasi özellikleri açısından benzerlik gösteren alanlara bölge adı verilir. Bu nedenle bir ülke, sahip olduğu her özelliğe göre farklı bölgeler içinde yer alabilir.

Buna göre,

- iklim tipine göre, ılıman okyanusal iklim bölgesinde,
- nüfus yoğunluğuna göre, çok yoğun nüfuslu bölgede,
- ekonomik özelliğine göre, endüstrileşmiş bölgede,
- yer altı kaynaklarına göre, maden kömürü bölgesinde,
- siyasi özelliğine göre, Avrupa Birliği bölgesinde

yer alan ülke aşağıdakilerden hangisi olabilir?

- A) İngiltere B) Yunanistan C) Norveç
D) İtalya E) İzlanda

Diğer sayfaya geçiniz.

13. Dünya üzerindeki birçok canlı türü, doğal ortamlarına müdahale ve buna bağlı olarak nesillerinin tükenmesi tehlikesiyle karşı karşıyadır. Örneğin Amazon Ormanları, dünyadaki türlerin yarısından fazlasını barındırmaktadır. Bu alanda yapılacak tahribat, 30 yıl içerisinde türlerin yaklaşık % 10'unun yok olmasına neden olabilir. Ayrıca, ticari değere sahip olmaları nedeniyle, okyanuslardaki balina, Afrika Kıtası'ndaki fil ve gergedan gibi canlılar sayı olarak çok azalmıştır. Canlı türü sayısının azalmasında bir diğer etken de artan talebi karşılamak için giderek yaygınlaşan tarım ve endüstri etkinliklerinin yarattığı kirliliktir.

Bu parçada, ekolojik dengenin bozulmasına ve buna bağlı olarak canlı türlerinin yok olmasına neden olan etkenlerin hangisinden söz edilmiştir?

- A) Aşırı avlanma
- B) Hızlı nüfus artışı
- C) Yaşam alanlarının daralması
- D) Ekonomik etkinlikler
- E) Orman yangınları

14. Bölgesel, meteorolojik ve coğrafi etmenlerin hava kirliliği üzerinde büyük etkisi olmaktadır. Genel olarak iki tip hava kirliliği vardır. Los Angeles tipi hava kirliliği, yüksek basınç alanlarında, sıcak havada ve öğle saatlerinde, özellikle araç yoğunluğunun çok fazla olduğu kentlerde, atmosferdeki egzoz gazlarının miktarının artması ve bu gazların güneş ışınlarının etkisiyle canlılar için zararlı gazlara dönüşerek okyanus, deniz ya da göllerden gelen sisle karışması ve kentin üzerinde birikmesi sonucu meydana gelmektedir. Londra tipi hava kirliliği ise fosil yakıtların yanması sonucu ortaya çıkan dumanın ve endüstri kuruluşlarından kaynaklanan baca gazlarının sisle karışmasıyla oluşur. Daha çok soğuk ve nemli havada, sabah saatlerinde görülür.

Buna göre, aşağıdaki kentlerin hangisinde bu iki tip hava kirliliğinin de yoğun olarak görülmesi beklenir?

- A) İskenderun
- B) İzmit
- C) İzmir
- D) Samsun
- E) Mersin

15. Aşağıdaki gazete haberlerinden hangisi küresel ısınmanın sonuçlarıyla ilgili değildir?

- A) Sibirya'nın batısında on bir bin yıldır donmuş hâlde bulunan ve Türkiye'den daha geniş alan kaplayan turbalıklar son yıllarda erimeye başladı.
- B) Önümüzdeki yıllarda deniz seviyesinde görülmesi beklenen yükselme, birçok kıyı yerleşimini olumsuz yönde etkileyecek. Örneğin, deniz seviyesinde meydana gelecek bir metrelik yükselme, Bangladeş'in % 17'sinin sular altında kalmasına neden olacak.
- C) Son yıllarda, Kuzey Yarım Küre'nin orta enlemlerindeki göl ve nehirlerin yıllık buzla kaplı kalma süreleri yaklaşık iki hafta kısaldı.
- D) İzlanda'nın güneyinde yer alan bir buzulun altındaki volkan, uzun aradan sonra tekrar faaliyete geçti. Yoğun kül bulutundan dolayı görüş mesafesi azaldı ve çevredeki hava alanları kapatıldı. Oluşabilecek buzul erimesi ve çamur akıntısına önlem olarak çevredeki yerleşim birimleri boşaltıldı.
- E) Kuzey Kutbu'nda yaşayan kutup ayıları, deniz yüzeyindeki buz parçaları üzerinde dolaşarak fokları avlıyorlar. Ancak, son yıllarda deniz yüzeyindeki buzların birbirinden uzaklaşması ve incilmesi, kutup ayılarını açlık tehlikesiyle karşı karşıya getiriyor.

16. Türkiye'de çayır ve meralarda aşırı otlatma yapılması, tarım topraklarının aşırı işlenmesi, ormanlık alanlarda tarla açmak ya da turistik tesis kurmak için ağaçların kesilmesi, bazı maden ocaklarında madenin çıkarılabilmesi için yüzeyin kazılarak açılması ve eğimli alanlardaki kara ve demir yolu yapım çalışmaları erozyonu artıran başlıca etkenlerdir.

Bu parçada verilenler, erozyonla aşağıdakilerden hangisi arasındaki ilişkiye doğrudan örnektir?

- A) Ekonomik etkinlikler
- B) Toprak türü
- C) Yağış rejimi
- D) Yer şekillerinin yapısı
- E) Su kaynakları

TEST BİTTİ.

CEVAPLARINIZI KONTROL EDİNİZ.

SINAVDA UYULACAK KURALLAR

1. Adayların cep telefonu, çağrı cihazı, telsiz, fotoğraf makinesi, cep bilgisayarı, saat fonksiyonu dışında fonksiyonu olan saat, hesap makinesi, sözlük, kitap, defter, müsvetde kâğıdı, pergel, açılıçer, cetvel ve benzeri her türlü araç gereçle, silah ve benzeri teçhizatla sınava girmesi kesinlikle yasaktır. Bu araçlarla sınava girmiş adaylar mutlaka Salon Sınav Tutanağına yazılacak, bu adayların sınavı geçersiz sayılacaktır.
2. Bu test için verilen toplam cevaplama süresi **25 dakikadır. Sınav başladıktan sonra ilk testin cevaplama süresi bitmeden ve son testin son 15 dakikası içinde adayın sınavdan çıkmasına kesinlikle izin verilmeyecektir. İki test arasında birinci testin soru kitapçığının toplanması, ikinci ve üçüncü testin soru kitapçığının dağıtılması işlemleri dışında ara verilmez.** Bu toplama ve dağıtma işlemi sırasında adayların salondan dışarı çıkmaları kesinlikle yasaktır.
3. Sınav evrakını teslim ederek salonu terk eden aday, her ne sebeple olursa olsun tekrar sınava alınmayacaktır.
4. Bu süreler dışında cevaplamayı süre bitmeden tamamlarsanız, cevap kâğıdınızı ve soru kitapçığınızı salon görevlilerine teslim ederek salonu terk edebilirsiniz. Sınav süresinin bittiği ilan edildiğinde cevap kâğıtları ve soru kitapçıkları salon görevlileri tarafından toplanıncaya kadar yerlerinizde kalınız.
5. Sınav süresince görevlilerle konuşmak ve görevlilere soru sormak yasaktır. Aynı şekilde görevlilerin de adaylarla yakından ve alçak sesle konuşmaları, ayrıca adayların birbirinden kalem, silgi vb. şeyleri istemeleri kesinlikle yasaktır.
6. Sınav sırasında kopya çeken, çekmeye kalkışan, kopya veren, kopya çekilmesine yardım edenlerin kimlik bilgileri, Salon Sınav Tutanağına yazılacak ve bu adayların sınavları geçersiz sayılacaktır. Görevliler kopya çekmeye ya da vermeye kalkışanları uyarmak zorunda değildir, sorumluluk size aittir.

Adayların test sorularına verdikleri cevapların dağılımları bilgi işlem yöntemleriyle incelenecek, bu incelemelerden elde edilen bulgular bireysel ya da toplu olarak herhangi bir şekilde kopya çekildiğini gösterirse kopya eylemine katılan aday/adayların cevaplarının bir kısmı ya da tamamı iptal edilecektir. Cevap kâğıdınızı başkaları tarafından görülmeyecek şekilde tutmanız gerekmektedir.

7. Adaylar, görevlilerin her türlü uyarılarına uymak zorundadır. Sınavınızın geçerli sayılması, her şeyden önce sınav kurallarına uymanıza bağlıdır.
8. Cevap kâğıdına yazılacak her türlü yazıda ve yapılacak bütün işaretlemelerde kurşun kalem kullanılacaktır. Tükenmez kalem veya dolma kalem kesinlikle kullanılmayacaktır.

Cevapların cevap kâğıdına işaretlenmiş olması gerekir. Soru kitapçığına işaretlenen cevaplar geçerli değildir.

9. Soru kitapçığının sayfalarının eksik olup olmadığını, kitapçıkta basım hatalarının bulunup bulunmadığını ve soru kitapçığının her sayfasında basılı bulunan soru kitapçığı türünün, kitapçığın ön kapağında basılı soru kitapçığı türüyle aynı olup olmadığını kontrol ediniz. Soru kitapçığının sayfası eksik ya da basımı hatalıysa değiştirilmesi için Salon Başkanına başvurunuz.

Cevap kâğıdınızda, size verilen soru kitapçığının türünü "Soru Kitapçığı Türü" alanındaki ilgili yuvarlağı doldurarak belirtiniz. Cevap kâğıdınızda işaretlediğiniz Soru Kitapçığı Türü salon görevlileri tarafından sınav öncesi kontrol edilerek paraflanacaktır. Sizin işaretlediğiniz ile salon görevlilerinin parafladıkları kitapçık türü arasında fark olması hâlinde salon görevlilerinin parafladıkları kitapçık türü dikkate alınacaktır.

LYS-4'te alacağınız bütün testlerin soru kitapçığı türü aynı olmalı, birbirinden farklı olmamalıdır. Bu duruma özellikle dikkat ediniz. LYS-4'te size verilen soru kitapçıklarının türleri birbirinin aynı değilse görevlileri hemen uyararak size aynı türden soru kitapçığı vermelerini sağlayınız.

10. Sınav sonunda soru kitapçıkları toplanacak ve ÖSYM'de tek tek incelenecektir. Soru kitapçığının bir sayfası bile eksik çıkarsa sınavınız geçersiz sayılacaktır.
11. Soru kitapçığının sayfalarındaki boş yerleri müsvetde için kullanabilirsiniz.
12. Soruları ve/veya bu sorulara verdiğiniz cevapları ayrı bir kâğıda yazıp bu kâğıdı dışarı çıkarmanız kesinlikle yasaktır.
13. **Sınav salonundan ayrılmadan önce soru kitapçığınızı, cevap kâğıdınızı ve 2010 LYS-4 Sınava Giriş ve Kimlik Belgenizi salon görevlilerine teslim etmeyi unutmayınız.**
14. Testin cevaplama süresinin bitmesine 15 ve 5 dakika kaldığı salon görevlileri tarafından yüksek sesle hatırlatılacaktır.
15. **Bu testin cevaplarını cevap kâğıdında ilgili alana işaretlemeye dikkat ediniz.**

LİSANS YERLEŐTİRME SINAVI - 4 (LYS-4)

20 HAZİRAN 2010

COĞRAFYA - 2 TESTİ

1. C

2. B

3. A

4. E

5. B

6. D

7. C

8. A

9. C

10. E

11. D

12. A

13. E

14. B

15. D

16. A