

5.
SINIF



T.C.
MİLLÎ EĞİTİM BAKANLIĞI

KİTAPÇIK TÜRÜ

A

DEVLET PARASIZ YATILILIK VE BURSLULUK SINAVI SORU KİTAPÇIĞI
5. SINIF
4 MAYIS 2008 Saat: 10.00

Adayın Adı ve Soyadı :

Aday No (T.C. Kimlik No) :

DİKKAT: 1. Soru kitapçıklarını kontrol ederek, baskı hatası olan kitapçığın değiştirilmesi için salon sorumlularına başvurunuz.
2. Soru kitapçığının ön ve arka yüzündeki açıklamaları okuyunuz.
3. Sınavda hesap makinesi, cep telefonu ve çağrı cihazı kullanılması yasaktır. Bu cihazları sınav başlamadan önce salon başkanına teslim ediniz.

CEVAP KÂĞIDI İLE İLGİLİ AÇIKLAMA

1. Cevap kâğıdı üzerine yapacağınız işaretlemelerde siyah kurşun kalemde başka kalem kullanmayınız.
2. **Cevap kâğıdındaki bilgilerin size ait olup olmadığını kontrol ediniz.** Cevap kâğıdı kullanılmayacak durumsa veya size ait değilse verilecek yedek cevap kâğıdına, kimliğinizle ilgili bilgileri, salon başkanının açıklamalarına göre yazınız.
3. **Kitapçık türünü cevap kâğıdınızın ilgili bölümüne mutlaka işaretleyiniz.**
4. Cevap kâğıdında **TÜRKÇE, MATEMATİK, FEN ve TEKNOLOJİ** ve **SOSYAL BİLGİLER** testleri için dört ayrı sütun bulunmaktadır. Cevaplarınızı cevap kâğıdındaki ilgili sütunlara aşağıdaki örnekte olduğu gibi yuvarlağı, dışına taşırmadan işaretleyiniz. Yanlış karalamalarınızı düzeltirken yuvarlağın içini temizce siliniz.

ÖRNEK KODLAMA

(A) (B) (C) (D)

SORU KİTAPÇIĞI İLE İLGİLİ AÇIKLAMA

1. Bu soru kitapçığında **TÜRKÇE testinde 25, MATEMATİK testinde 25, FEN ve TEKNOLOJİ testinde 25 ve SOSYAL BİLGİLER testinde 25** olmak üzere toplam **100** soru bulunmaktadır. Kitapçığın tümü için verilen cevaplama süresi **120 dakikadır**.
2. Her sorunun dört seçeneğı vardır. Dört seçenekten sadece bir tanesi doğru cevaptır. Doğru bulduğunuz seçeneğı cevap kâğıdında o soru için ayrılan yerde bularak işaretleyiniz.
3. Size ayrı bir karalama kâğıdı verilmeyecektir. Soru kitapçığının içindeki boş alanları karalama yapmak için kullanabilirsiniz.
4. Cevabını bilmediğiniz sorular üzerinde fazla zaman kaybetmeden diğer sorulara geçiniz. Zamanınız kalırsa bu sorulara daha sonra dönebilirsiniz.
5. Puanlamada her soru grubu için yanlış cevap sayısının **üçte biri, doğru cevap sayısından çıkarılarak** geçerli cevaplara karşı gelen ham puan tespit edilecektir. Bu nedenle rastgele cevaplama yapmayınız.
6. Sınavın bitiminde cevap kâğıdınızı ve soru kitapçığınızı salon sorumlularına teslim etmeyi unutmayınız.

BAŞLAYINIZ DENİLMEYEN SORU KİTAPÇIĞINI AÇMAYINIZ.

1. “Gençliğimi kapının eşiğinde bırakıp eve giriyorum.” cümlesindeki altı çizili sözcüğün zıt anlamlısı aşağıdakilerin hangisinde vardır?

- A) Bu olumsuzluklar onu olgunluk çağına hazırlıyordu.
- B) Fotoğraflara baktıkça çocukluk hatıralarım aklıma geliyordu.
- C) İhtiyarlığında rahat etmek için para biriktiriyormuş.
- D) Birçok saçlı sakallı adam okul çocukları gibi sıraya dizilmişti.

2. Aşağıdaki cümlelerin hangisinde altı çizili sözcük mecaz anlamda kullanılmıştır?

- A) Eşyalar sağlam olarak teslim edildi.
- B) Bu yaz tatil yapamayacağıma yanıyorum.
- C) Bir ricada bulunacak, yardım isteyecekti.
- D) Fındık toplayan yorgun kadınlarla konuştu.

3. Aşağıdaki cümlelerin hangisinde “güneş” sözcüğü terim anlamıyla kullanılmıştır?

- A) Güneş, gezegenlere ışık ve ısı verir.
- B) Çiftçiler güneş batarken tarladan dönüyorlardı.
- C) Her tarafı eskimiş, güneş görmeyen bir konaktı.
- D) Keline yeni bir güneş gözlüğü aldı.

4. “Gün” sözcüğü aşağıdakilerin hangisinde “iyi yaşanmış zaman” anlamında kullanılmıştır?

- A) Gün biraz yükselince sıcak, kırları kapladı.
- B) Gün gördün, diyenlere gülümseyerek bakardı.
- C) Günün şartlarına uygun davranmaya çalışırdı.
- D) Gün boyunca sabırla telefonun çalmasını bekledi.

5. Aşağıdakilerin hangisinde “doğrusu” sözcüğü, açıklayıcı bir ifade olarak “gerçek şu ki” anlamında kullanılmıştır?

- A) Dikkatlice baktı ama doğrusunu okuyamadı.
- B) Tahtaya bir sayı doğrusu çizmesini istedi.
- C) Dün anlatılanların doğrusunu ondan öğrendim.
- D) Bu çiçek, doğrusu çok hoşuma gitti.

6. “Çevirmek” sözcüğü aşağıdakilerin hangisinde “yolundan alıkoymak” anlamında kullanılmıştır?

- A) O kadar gururlu ki, kendisine yollanan parayı geri çevirmiş.
- B) Bahçenin etrafını duvarla çevirerek evi korumaya almışlar.
- C) Başını çevirmeden annesine cevap verdi.
- D) Arkadaşım bizi çevirip evine götürdü.

7. “Mehmet Bey yavaş yavaş kötü alışkanlıklarını değiştirmeli.” cümlesinde aşağıdaki sorulardan hangisinin cevabı yoktur?

- A) Kim
- B) Ne zaman
- C) Nasıl
- D) Neyi

8. Aşağıdaki cümlelerin hangisinde neden – sonuç ilişkisi vardır?

- A) Bilgisayar alındığı için işimiz kolaylaştı.
- B) Hasta her geçen gün daha da kötüleşiyor.
- C) Kitap okumak üzere buraya geldim.
- D) Böylece otelime doğru yola çıktım.

9. Aşağıdaki cümlelerin hangisinde “nesnel” bir yargı vardır?
- A) Eminim ki bu senin için çok önemlidir.
B) Sanatçının halk gözünde çok büyük bir yeri vardır.
C) Öğretmen etkinliği yaparken sınıfı üç gruba ayırdı.
D) Okunan her hikâye, insanı kendine biraz daha yakınlaştırır.
10. Senin bu anlattıklarına inanıyorum ama
Boş bırakılan yere aşağıdakilerden hangisi getirilemez?
- A) bu konuyu bir de başkalarından dinlemek istiyorum.
B) senden farklı düşünüyorum.
C) bu konuda araştırma yapmalıyım.
D) senin dediklerini kabul ediyorum.
11. 1. kendi planlarını
2. bilgelik
3. çok
4. değiştirmekten
5. dünyanın düzenini
6. gerçekleştirmektir.
- Yukarıdaki sözcüklerle anlamlı ve kurallı bir cümle oluşturulduğunda sıralama nasıl olur?
- A) 1 – 2 – 4 – 5 – 6 – 3 B) 2 – 5 – 4 – 3 – 1 – 6
C) 5 – 4 – 3 – 2 – 6 – 1 D) 1 – 4 – 3 – 6 – 5 – 2
12. “Yüksek dağın başı dumanlı olur.” atasözünü açıklayan cümle aşağıdakilerden hangisidir?
- A) Önemli iş yapanlar, sürekli sorumluluklarının sıkıntısı içinde olurlar.
B) Sabır acıdır ama tatlı bir meyvesi vardır.
C) Büyük servetler bazen insanı yalnızlaştırır.
D) Sevgi ve nefret arasındaki fark şaşılacak kadar azdır.
13. Aşağıdaki cümlelerin hangisinde eylem gerçekleşmiştir?
- A) Matematik sorularını bu kez çözeceğim.
B) Önümüzdeki hafta babam eve gelir.
C) Bu akşam bize misafir geliyor.
D) Annem bana yeni bir ayakkabı almış.
14. “Ahlak, sadece kötülük etmekten çekinmek değildir, başkalarının yapacakları kötülükleri de önlemeye çalışmaktır.” cümlesine göre aşağıdakilerden hangisi ahlaka uygun bir davranıştır?
- A) Yere çöp atan bir kişiyi uyarmak
B) Başkasına ait bir eşyayı izinsiz kullanmak
C) İnsanlar hakkında olumsuz sözler söylemek
D) Hayvanlara eziyet edenlere göz yummak

15. İnsanoğlu ya geçmişi düşünür ya geleceği. Geçmişi düşünür, çünkü geçmişte iyi günleri vardır, iyi anıları vardır, anılarından kopamaz. Geleceği düşünür, çünkü hedeflerine ulaşacaktır; daha iyi, daha güzel günlere kavuşacaktır.

Bu paragraf aşağıdaki sorulardan hangisinin cevabıdır?

- A) İnsanoğlu neden geçmişi ve geleceği düşünür?
- B) Geçmişte yaşananlardan ders çıkarmak mümkün müdür?
- C) İnsanoğlu geleceği mi daha çok düşünür geçmişini mi?
- D) Geçmişin gelecek üzerindeki etkileri nelerdir?

16. On üç yaşında hâlâ kendini veya kendi yeteneklerini keşfedememiş küçük bir ressamdım. Resim yapmak benim için her şey demektir. Bunun sayesinde kendimi tam anlamıyla ifade etmeyi öğrendim. Düşüncelerimi ve hissettiklerimi bu sayede açık seçik ifade eder olmuştum.

Bu paragrafın yazarı için aşağıdakilerden hangisi söylenebilir?

- A) Ünlü bir ressam olduğu
- B) Ressamlığa on üç yaşında başladığı
- C) Duygu ve düşüncelerini resim yaparak anlattığı
- D) Geçimini resim yaparak sağladığı

17. Kuşlar haber verdi bana kuşlar

Gelecekte bir şeyler olacak
Gün dilediğimiz gibi doğar
İnsan yüzümüz güler olacak

Cahit Sıtkı Tarancı

Bu dördünlüğün ana duygusu aşağıdakilerden hangisidir?

- A) Cesaret
- B) Umut
- C) Hüzün
- D) Şüphe

18. Güneş, bulutların arasından ağlar gibi görünüyor; yağmurun içinde ürperiyordu. Çağlayarak akan derenin sesini dinliyordu.

Bu paragrafta aşağıdakilerden hangisine "insan"a ait özellikler verilmiştir?

- A) Dere
- B) Yağmur
- C) Güneş
- D) Bulut

19. Orman küstü bize... Uzaklaşıyor bizden... Daha doğrusu biz küstürdük onu. Yaktık, kestik, kemirttik. Hâlâ baltalar elimizde... Hâlâ ateşler içinde orman. Hâlâ keçiler kemirmeye devam ediyor ağaçları. Böylesine yok ettiğimiz orman küsmez mi bize? Nasıl gözümüzün önünde, dizimizin dibinde durur artık? Alır başını uzaklaşır, insanoğlunun kötülüklerinden dağlara, tepelere sığınır.

Parçada asıl anlatılmak istenen düşünce aşağıdakilerden hangisidir?

- A) Toplumda çevre bilinci oluşmazsa ormanlar yok olabilir.
- B) Orman yangınlarına karşı gerekli önlemler alınmalı.
- C) Fidan dikerek ormanlık alanlar çoğaltılmalı.
- D) Ormanların zarar görmesi erozyona sebep olur.

20. Ninemin dizine koyardım başımı. Damarları çıkık, kurumuş sarı bir kestane yaprağına benzeyen eli, başımın üstünde dolaşır... Çocukların gözüne uykuyu, yıldızlı bir gece gibi dolduran masalları söylemesini bilirdi ninem.

Aşağıdakilerden hangisi bu parçanın başlığıdır?

- A) Onun Masalları
- B) Kestane Yaprığı
- C) Yıldızlı Geceler
- D) Rüyalarım ve Ben

21. Bin bir facia karşısında bunalan ruhların beklediği bir zamanda yazılan İstiklal Marşı, o günlerin hatırasıdır. O şiir bir daha yazılamaz, ben de yazamam. O şiir artık benim değildir, milletin malıdır. Benim millete en değerli armağanım budur.

Bu paragrafta İstiklal Marşı ile ilgili olarak aşağıdakilerden hangisine değinilmemiştir?

- A) Şairi tarafından millete hediye edildiğine
- B) Tekrar yazılmasının imkânsızlığına
- C) Sıkıntılı günlerin bir anısı olduğuna
- D) Millet tarafından beğenildiğine

22. Aşağıdakilerin hangisinde varlığı niteleyen bir sözcük yoktur?

- A) Sümbüllerin hepsi baharda açar.
- B) Genç kız bir laleye benziyordu.
- C) Yerde solmuş bir karanfil bulmuş.
- D) Bahçesinde beyaz gül yoktu.

23. Aşağıdaki altı çizili sözcüklerin hangisi ek alarak yeni bir anlam kazanmıştır?

- A) En büyük hayali pilot olmaktı.
- B) Hâli vakti yerinde bir adama benziyordu.
- C) Hangisinin haklı olduğu anlaşılamadı.
- D) Yerde büyük kırmızı bir halı vardı.

24. “Mı, mi” aşağıdakilerin hangisine soru anlamı katmıştır?

- A) Dedem geldi mi hepimiz ona koşarız
- B) Üzülmüş mü sevinmiş mi belli değil
- C) Elbisemin rengi kırmızı mı olsun yeşil mi olsun
- D) Annemiz kızdı mı herkes köşesine çekilirdi

25. Aşağıdaki cümlelerden hangisinin sonunda üç nokta (...) kullanılmalıdır?

- A) Sıcaklardan bunalmışlardı yaz boyunca
- B) İhtiyar kadın basamakları zar zor çıktı
- C) Eşyalarını sandığa özenle yerleştirdi
- D) Bir şeyi elde etmek kolay ama korumak

TÜRKÇE TESTİ BİTTİ.
MATEMATİK TESTİNE GEÇİNİZ.

1. Birler bölümünde 387, binler bölümünde 876, milyonlar bölümünde 678 olan sayı aşağıdakilerden hangisidir?

- A) 678876387 B) 387876678
C) 876678387 D) 876387678

2. 0, 2, 6, 14, 30, ?, 126 sayı örüntüsünde verilmeyen sayı kaçtır?

- A) 46 B) 58 C) 62 D) 90

3. Bir voleybol maçı için 996 tane bilet satılmıştır. Bir biletin fiyatı 38 YTL olduğuna göre, aşağıdakilerden hangisi elde edilen gelirin YTL olarak en yakın tahminidir?

- A) 27 000 B) 30 000 C) 40 000 D) 60 000

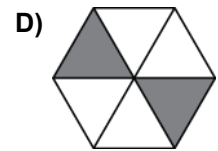
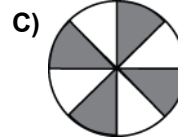
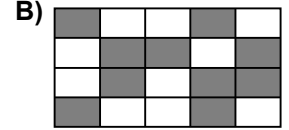
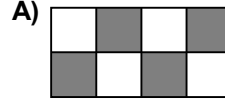
4. $\square \div 141 = 17183$ ise aşağıdakilerden hangisi doğrudur?

- A) $17183 \div \square = 141$ B) $141 \times \square = 17183$
C) $17183 \div 141 = \square$ D) $17183 \times 141 = \square$

5. Bir kırtasiyede satılan dolma kalemlerin tanesi 3 YTL, kurşun kalemlerin tanesi 80 YKr'tur. Semih cebindeki 7 YTL'nin tamamını harcayarak bu kalemlerden en fazla kaç tane alabilir?

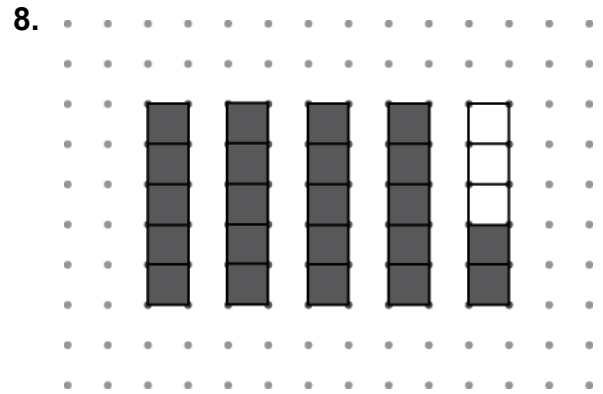
- A) 3 B) 4 C) 6 D) 8

6. Aşağıdaki şekillerden hangisinin modellediği kesir, $\frac{1}{2}$ kesrine denk değildir?



7. 4 eş pasta, Ahmet ve 4 arkadaşına eşit olarak paylaştırılıyor. Paylaştırma sonunda arkadaşlarından bazıları Ahmet'e kendi paylarını verdikleri için Ahmet'in payı $\frac{12}{5}$ oluyor. Buna göre, Ahmet'e kaç kişi kendi payını vermiştir?

- A) 1 B) 2 C) 3 D) 4



Verilen şekildeki taralı kısımların ifade ettiği kesir aşağıdakilerden hangisidir?

- A) $\frac{21}{5}$ B) $\frac{22}{5}$ C) $\frac{41}{5}$ D) $\frac{42}{5}$

9. Tablo: Fıstıklı Muhallebinin Malzemeleri

Malzemeler (5 kişilik)	Ölçü (Su bardağı)
Süt	3
Toz şeker	2,5
Antep fıstığı	1
Un	1,5

Yukarıdaki tabloda verilen malzemeler 5 kişilik olduğuna göre, aşağıdaki tablolardan hangisindeki malzemeler 15 kişiliktir?

A)

Malzemeler (15 kişilik)	Ölçü (Su bardağı)
Süt	13
Toz şeker	7,5
Antep fıstığı	3
Un	4

B)

Malzemeler (15 kişilik)	Ölçü (Su bardağı)
Süt	13
Toz şeker	12,5
Antep fıstığı	11
Un	11,5

C)

Malzemeler (15 kişilik)	Ölçü (Su bardağı)
Süt	9
Toz şeker	5
Antep fıstığı	3
Un	3

D)

Malzemeler (15 kişilik)	Ölçü (Su bardağı)
Süt	9
Toz şeker	7,5
Antep fıstığı	3
Un	4,5

10.

Tam Kısım		Kesir Kısmı		
1	,	3	3	
1	,	0	3	3
1	,	3	0	3

Tablodaki ondalık kesirlerin büyükten küçüğe doğru sıralanışı aşağıdakilerden hangisidir?

A) $1,33 > 1,303 > 1,033$

B) $1,33 > 1,033 > 1,303$

C) $1,303 > 1,33 > 1,033$

D) $1,303 > 1,033 > 1,33$

11. $1,01 + 0,09 + 9,9$ işleminin sonucu kaçtır?

A) 10

B) 10,19

C) 10,9

D) 11

12. Serap 112 YTL olan haftalık harçlığının % 25'ini biriktirmektedir. Serap, 150 YTL olan elbiseyi en az kaç haftada biriktirdiği harçlığıyla alabilir?

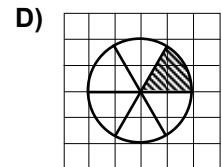
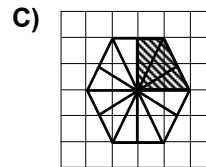
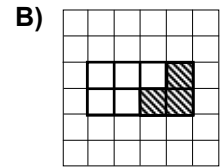
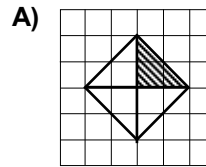
A) 5

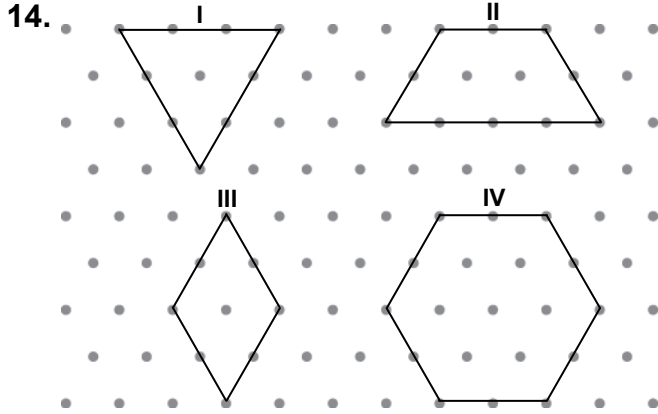
B) 6

C) 7

D) 8

13. Aşağıdaki şekillerden hangisinde, taralı alan bütünün % 25'inden azdır?

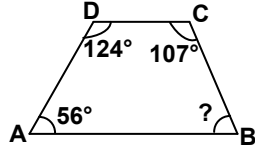




Yukarıdaki izometrik kâğıtta verilen çokgenlerden hangileri düzgün çokgendir?

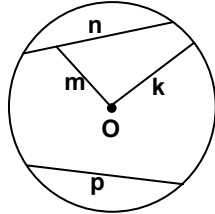
- A) I ve IV
B) I ve II
C) II ve III
D) III ve IV

15. Yandaki yamukta \hat{B} 'nin ölçüsü kaç derecedir?

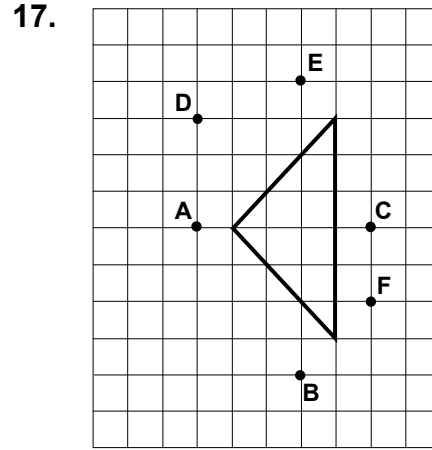


- A) 56
B) 73
C) 83
D) 124

16. Şekilde verilen doğru parçalarından hangisi O merkezli çemberin yarıçapıdır?



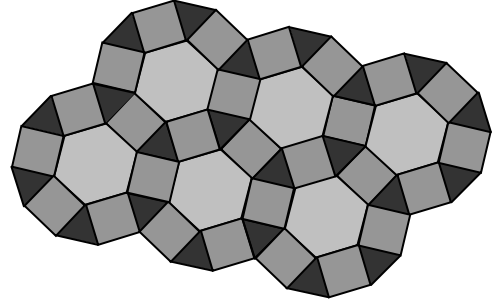
- A) n
B) m
C) p
D) k



Kareli kâğıt üzerinde belirtilen noktalardan hangi ikisini birleştiren doğru, verilen üçgenin simetri doğrusudur?

- A) A ile C
B) B ile E
C) D ile F
D) D ile C

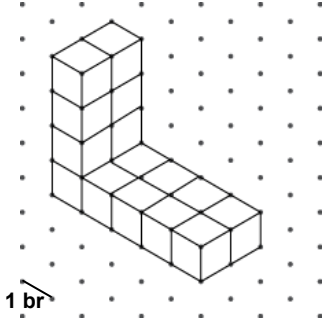
18.



Ayşe öğretmen, etkinlik olarak öğrencilerin düzgün çokgenel bölgeleri kullanarak süslemeler yapmalarını istemiştir. Ali'nin oluşturduğu yukarıdaki süslemede aşağıdaki çokgenel bölgelerden hangisi yer almamaktadır?

- A) Beşgenel bölge
B) Altıgenel bölge
C) Üçgenel bölge
D) Karesel bölge

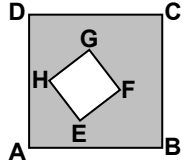
19.



Görünümü yukarıdaki izometrik kâğıt üzerinde verilen yapı kaç tane birim küpten oluşmuştur?

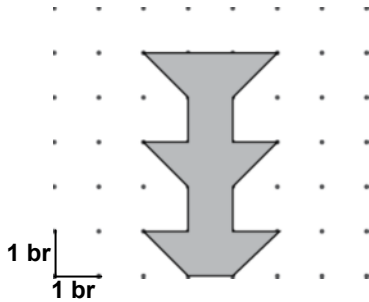
- A) 12 B) 14 C) 16 D) 18

20. Şekildeki ABCD karesinin içine, EFGH karesi çizilerek aralarındaki bölge boyanmıştır. EFGH karesinin çevre uzunluğu 12 cm ve taralı bölgenin alanı 55 cm^2 olduğuna göre, ABCD karesinin çevre uzunluğu kaç santimetredir?



- A) 24 B) 28 C) 32 D) 36

21. Yandaki şeklin alanı kaç birimkaredir?



- A) 6 B) 7 C) 8 D) 9

22. Pelin akşam 21.40'ta uyuyup, sabah 6.15'te uyanıyor. Pelin'in uyuduğu süre ne kadardır?

- A) 8 saat 35 dakika B) 8 saat 55 dakika
C) 7 saat 55 dakika D) 7 saat 35 dakika

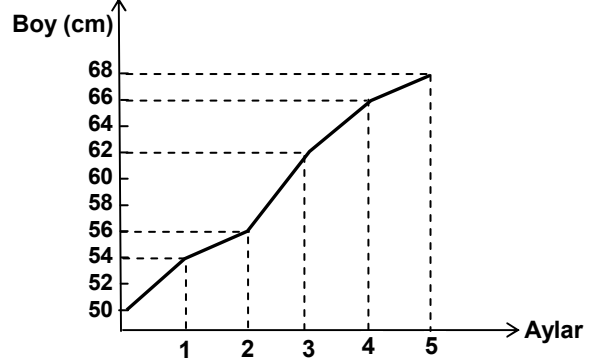
23. En fazla 1 L sıvı alan bir sürahinin içinde 600 mL su vardır. Sürahiye içindeki suyun $\frac{1}{4}$ 'i kadar su konuluyor. Bu sürahinin dolması için kaç mililitre daha su konmalıdır?



- A) 150 B) 250 C) 350 D) 450

24.

Grafik: Bebeğin Beş Aylık Boy Grafiği



Bir bebeğin ilk beş aylık boy değişimi yukarıdaki grafikte verilmiştir. Grafiğe göre bebeğin boyu en fazla hangi aylar arasında uzamıştır?

- A) 1. ve 2. B) 2. ve 3.
C) 3. ve 4. D) 4. ve 5.

25. Tablo: Günlere Göre Satılan Tavuk Sayıları

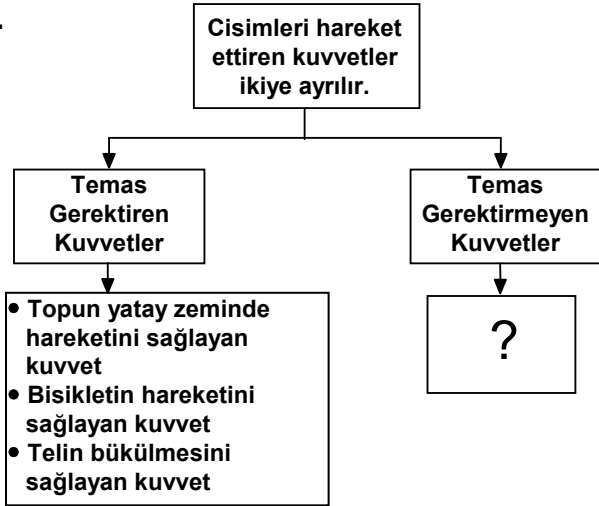
Günler	Tavuk Sayıları
Pazartesi	21
Salı	37
Çarşamba	35
Perşembe	59
Cuma	45
Cumartesi	63
Pazar	20

Tabloya göre günde ortalama kaç tavuk satılmıştır?

- A) 25 B) 30 C) 40 D) 45

MATEMATİK TESTİ BİTTİ.
FEN ve TEKNOLOJİ TESTİNE GEÇİNİZ.

1.



Kuvvet konusunu yukarıdaki şema ile anlatan Ayşe, "Temas Gerektirmeyen Kuvvetler" için hangi örneği veremez?

- A) Bazı metallerin mıknatıslar tarafından çekilmesini sağlayan kuvvet
 B) Bırakılan bir şeyin yere düşmesini sağlayan kuvvet
 C) Yünlü kumaşa sürtülen plastik tarağın kâğıt parçalarını çekmesini sağlayan kuvvet
 D) Ahmet'in yerdeki kutuyu yukarıya kaldırmasını sağlayan kuvvet

2. Hakan, Emine ve İlkey Fen ve Teknoloji dersinde "Sürtünme Kuvvetinin Hayatımızdaki Yeri" konusunu işledikten sonra aşağıdaki görüşleri belirtiyorlar.

Hakan: Araba lastikleri ile yol arasındaki sürtünme kuvvetini karlı yollarda artırmak için araba lastiklerine zincir takılır.

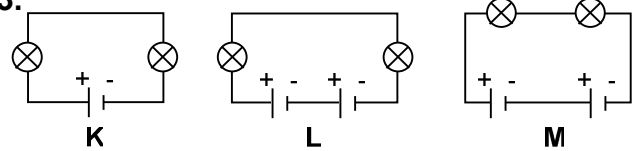
Emine: Sürtünme kuvveti sayesinde ayakta durabiliyoruz.

İlkey: Su direnci olmasaydı balıklar denizin içinde daha rahat yüzebilirlerdi.

Buna göre hangilerinin görüşleri doğrudur?

- A) Yalnız Hakan
 B) Emine ve İlkey
 C) Hakan ve Emine
 D) Hakan, Emine ve İlkey

3.

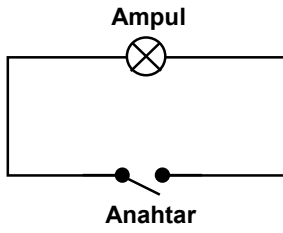


Özdeş ampul ve pillerle kurulu K, L ve M devreleri için aşağıdaki ifadelerden hangileri doğrudur?

- I- K'daki ampuller L'dekilerden daha parlak ışık verir.
 II- L'deki ampuller M'dekilerden daha parlak ışık verir.
 III- M'deki ampuller K'dakilerden daha parlak ışık verir.

- A) Yalnız II
 B) Yalnız III
 C) I – II
 D) I – III

4.



Öğretmen, öğrencilerine “Fen ve Teknoloji Laboratuvarı”nda yukarıdaki devreyi kurduruyor. Öğrenciler devredeki ampulün ışık vermediğini gözlemliyorlar.

Öğretmenin, “Ampulün ışık vermesi için neler yapılmalıdır?” sorusuna Hülya, Rıfki, Neşe ve Mehmet’in verdiği cevaplar aşağıdaki gibidir.

Rıfki : “Devreye pil bağlanıp anahtar kapatılmalıdır.”

Hülya : “Devreye sadece pil bağlanmalıdır.”

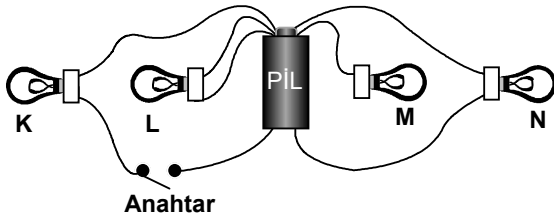
Neşe : “Devredeki anahtar kapatılmalıdır.”

Mehmet : “Devreye ikinci bir ampul bağlanmalıdır.”

Buna göre hangisinin verdiği cevap doğrudur?

- A) Rıfki B) Hülya
C) Neşe D) Mehmet

5. İletken teller, özdeş K, L, M ve N ampulleri, anahtar ve pilden kurulu aşağıdaki devrede hangi ampuller ışık verir?



- A) Yalnız K B) Yalnız N
C) K – L D) L – N

6. L mıknatısı K mıknatısına yaklaştırıldığında mıknatısların birbirini

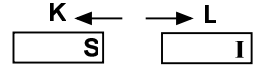
1. Şekildeki gibi ittiği görülüyor.

L mıknatısı M mıknatısına yaklaştırıldığında ise mıknatısların birbirini

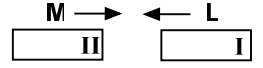
2. Şekildeki gibi çektiği görülüyor.

Buna göre; L'nin I kutbu ile M'nin II kutbu hangi seçenekte doğru olarak verilmiştir?

- | | I | II |
|----|---|----|
| A) | N | N |
| B) | N | S |
| C) | S | N |
| D) | S | S |

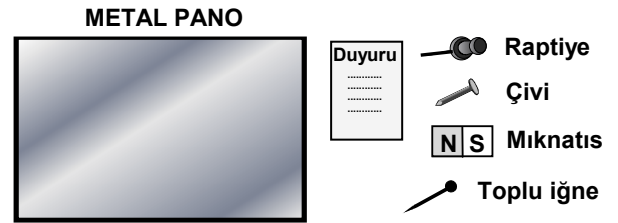


1. Şekil



2. Şekil

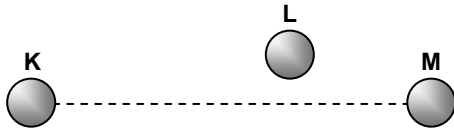
7.



Ekin yukarıda verilen araçlardan hangisi ile metal panoya “Duyuru” kâğıdını en kolay şekilde asabilir?

- A) B) C) D)

8.



K, L ve M gök cisimlerinin konumları şekildeki gibidir. K ve L gök cisimlerinin eşit büyüklükte oldukları biliniyor.


K'dan bakan bir gözlemci L ve M'yi eşit büyüklükte görüyor.

Buna göre, aşağıdaki ifadelerden hangileri doğrudur?

- I- Gerçekte M, L'den daha büyüktür.
- II- L'den bakan bir gözlemci K ve M'yi eşit büyüklükte görür.
- III- M'den bakan bir gözlemci L'yi K'dan daha büyük görür.

- A) Yalnız I B) I – III
C) II – III D) I – II – III

9.

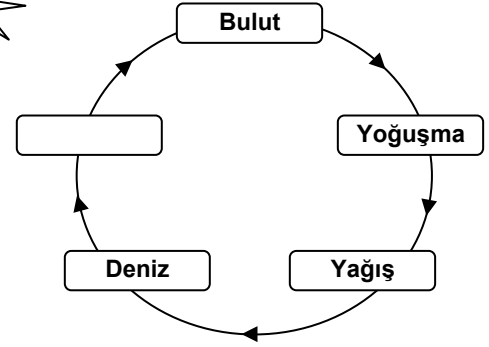


Ali, Ayşe ve Veli'nin oynadığı oyunda; Ali ortada dururken, Ayşe hem kendi etrafında hem de Ali'nin çevresinde, Veli ise Ayşe'nin çevresinde dönmektedir.

Bu oyunu Güneş, Dünya ve Ay'ın hareketlerine benzettiğimizde Ali, Ayşe ve Veli için aşağıdakilerden hangisi doğrudur?

- | | Ali | Ayşe | Veli |
|----|-------|-------|-------|
| A) | Dünya | Güneş | Ay |
| B) | Güneş | Ay | Dünya |
| C) | Ay | Dünya | Güneş |
| D) | Güneş | Dünya | Ay |

10.



Şekilde verilen su döngüsünde boş bırakılan kutuya aşağıdakilerden hangisi gelmelidir?

- A) Buharlaşma B) Erime
C) Donma D) Sis

11. Miktarları eşit olan aynı maddelerin sıcaklık artışı, maddelerin aldığı ısı miktarına bağlıdır.

Bu bilgiyi doğrulamak isteyen bir öğrenci aşağıdaki deney setlerinden hangisini kullanmalıdır? (Kaplar ve ısıtıcılar özdeştir.)

- A) B) C) D)

12. Bir öğrenci aynı maddeden yapılmış eşit hacimdeki iki şişenin birini su, diğerini zeytinyağı ile tam olarak dolduruyor. Şişeleri bir süre güneşte belettikten sonra her birinden farklı miktarlarda sıvı taşığını gözlüyor.

Öğrenci bu deneyi aşağıdaki sorulardan hangisinin cevabını bulmak için yapmıştır?

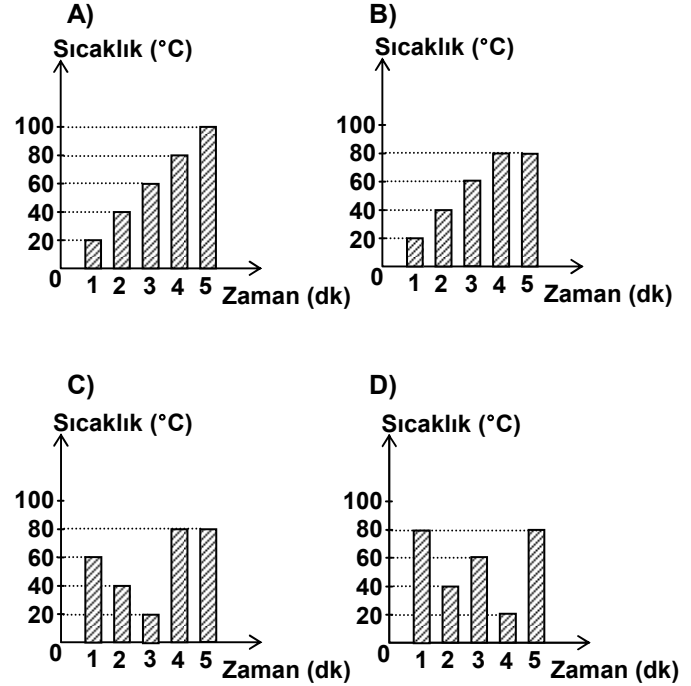
- A) Sıvıların yoğunlukları aynı mıdır?
B) Sıvıların genleşmeleri aynı mıdır?
C) Sıvıların kaynama noktaları aynı mıdır?
D) Sıvıların buharlaşma hızları aynı mıdır?

13. Bir öğrenci aynı tür ve büyüklükteki üç parça kumaşı ıslatıp iyice sıkıyor. Bu kumaş parçalarının her birini sıcaklıkları farklı üç ortama bırakıp kuruma sürelerini gözlemliyor. Öğrenci bu gözlemlerle aşağıdakilerden hangisi hakkında yorum yapamaz?

- A) Kumaşların kuruma hızı
B) Kumaşlardaki suyun buharlaşma hızı
C) Kurumaya sıcaklığın etkisi
D) Kuruma hızına kumaş büyüklüklerinin etkisi

14. • Sıvının 2. dakikadaki sıcaklığı 40 °C'tur.
• Sıvı, 60 °C sıcaklığa 3. dakikada ulaşır.
• Sıvı, 4. dakikada kaynamaya başlamıştır.

Verilen bilgiler aşağıdaki sıcaklık – zaman grafiklerinden hangisine aittir?



15. Aşağıdaki işlemler hangi sıra ile yapıldığında bir sıvının kütlesi ölçülmüş olur?

- I- Sıvı madde doldurulduktan sonra kap tartılır.
II- Boş kap sıvı madde ile doldurulur.
III- Boş kap tartılır.
IV- Dolu kabın tartım sonucundan, boş kabın tartım sonucu çıkarılır.

- A) III – I – II – IV
B) I – II – III – IV
C) III – II – I – IV
D) II – I – III – IV

16. • Besinlerin mideye iletilmesi
• Besinlerin emilecek hâle getirilmesi
• Besinlerin mekanik olarak küçük parçalara ayrılması

İnsanda sindirim sırasında gerçekleşen bazı olaylar yukarıda verilmiştir.

Aşağıdaki organlardan hangisi bu olayların herhangi birinde görev almaz?

- A) Yemek borusu B) İnce bağırsak
C) Mide D) Kalın bağırsak

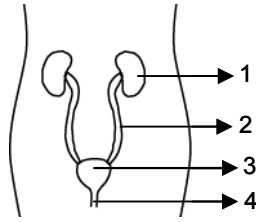
17. Ayşe'nin öğle yemeği

- Pirinç pilavı (100 g)
- Etli patates yemeği (100 g)
- Elma (100 g)

Öğle yemeğinde, yukarıda verilen yiyeceklerle beslenen Ayşe, en fazla hangi besin maddesinden almıştır?

- A) Karbonhidrat B) Protein
C) Mineral D) Yağ

18. Yanda verilen, insanda boşaltımda görevli yapı ve organların hangisi, idrarın depolandığı ana organdır?



- A) 1 B) 2 C) 3 D) 4

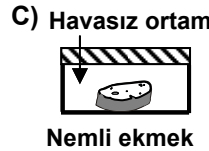
19. Sürekli alkollü içki tüketen bir insanda aşağıdakilerden hangisi görülmez?

- A) Yürümenin zorlaşması
B) Konuşmanın zorlaşması
C) Davranışların bozulması
D) Dikkatin sürekli artması

20. Aşağıdakilerden hangisi vitaminlerin özelliklerinden değildir?

- A) Hastalıklara karşı vücuda direnç kazandırma
B) Vücutta düzenleyici olarak görev yapma
C) Büyüme ve gelişmede etkili olma
D) Enerji kaynağı olarak kullanılma

21. Yaşamak için ılık, nemli ve oksijenli ortamı seçen bir mikroskopik canlı, oda sıcaklığında bulunan aşağıdaki düzeneklerin hangisinde çoğalabilir?



22.

Koyun 1	Tavuk 2	Yılan 3
Kedi 4	Serçe 5	Kelebek 6


Tablodaki kutucuklar numaralandırılmıştır. Hangi kutucuklardaki canlılar;

- Omurgalı olma
- Yavrularını sütle besleme
- Doğurarak çoğalma

özelliklerinin hepsine sahiptir?

- A) 1, 4 B) 2, 6 C) 1, 3, 5 D) 3, 4, 6

23.



Şekildeki numaralandırılmış kısımlar, aşağıdakilerin hangisinde verilen canlıların yaşam alanıdır?

- | | | |
|------------|----------|----------|
| <u>1</u> | <u>2</u> | <u>3</u> |
| A) Balık | Kurbağa | Sincap |
| B) Kurbağa | Sincap | Köpek |
| C) Solucan | Köpek | Balık |
| D) Sincap | Balık | Kurbağa |

24.

İnsanların Çevreye Etkileri

Olumlu etkiler

1. Ağaç kesimi
2. Çevreyi temiz tutma

Olumsuz etkiler

3. Orman yangınları
4. Ağaçlandırma çalışması

Yukarıda verilen şemada insanların çevreye etkileri yanlış gruplandırılmıştır. Kaç numaralı olaylar yer değiştirirse olumlu ve olumsuz etkiler doğru gruplandırılmış olur?

- A) 1 – 3 B) 1 – 4 C) 2 – 3 D) 2 – 4

25.

Bitki özellikleri / Bitki çeşidi	Kök	Yaprak	Çiçek	Gövde
K	Var	Var	Var	Var
L	Yok	Var	Yok	Var

Yukarıdaki tabloda K ve L bitkilerine ait özellikler verilmiştir. Bu bitkiler ile ilgili olarak aşağıdakilerden hangisi söylenebilir?

- A) Tohumla ürerler.
B) Kökte besin depo ederler.
C) Besinlerini kendileri yaparlar.
D) Her ikisi de uzun boylu türlerdir.

FEN ve TEKNOLOJİ TESTİ BİTTİ.
SOSYAL BİLGİLER TESTİNE GEÇİNİZ.

1. Atatürk Döneminde, uygar devletlerle olan ticari ilişkileri kolaylaştırmak amacıyla, aşağıdakilerden hangisinde değişiklik yapılmıştır?

- A) Kadın haklarında
- B) Takvim, saat ve ölçülerde
- C) Eğitim ve kültürde
- D) Kılık ve kıyafette

2. Türkiye limanlarında her türlü yük ve yolcu taşıma hakkının Türk bayraklı gemilere ve Türk vatandaşlarına ait olmasını sağlayan kanun, aşağıdakilerden hangisidir?

- A) Teşkilat-ı Esasiye Kanunu
- B) Kabotaj Kanunu
- C) Türk Medeni Kanunu
- D) Soyadı Kanunu

3. I- Soyadı Kanunu'nun kabulü
II- Cumhuriyetin ilanı
III- Modern okulların açılması

Verilen inkılapların eğitim, siyasi ve toplumsal alanlarla ilişkilendirilmesi, aşağıdakilerden hangisinde doğru olarak verilmiştir?

	I	II	III
A)	Siyasi	Eğitim	Toplumsal
B)	Toplumsal	Eğitim	Siyasi
C)	Eğitim	Toplumsal	Siyasi
D)	Toplumsal	Siyasi	Eğitim

4. Aşağıdakilerden hangisi, Mustafa Kemal'in devlet yönetiminde halkın söz sahibi olmasını sağlamak için yaptığı yeniliklerle ilgili değildir?

- A) Türkiye Büyük Millet Meclisi'nin açılması
- B) Cumhuriyetin ilan edilmesi
- C) Soyadı Kanunu'nun çıkarılması
- D) Kadınlara milletvekili seçme ve seçilme hakkının verilmesi

5. Ülkemizdeki bazı tarihî eserler, buldukları şehirlerle aşağıda eşleştirilmiştir. Bu eşleştirmelerden hangisi yanlıştır?

- A) Milet Antik Tiyatrosu → Muğla
- B) İshak Paşa Sarayı → Ağrı
- C) Artemis Tapınağı → İzmir
- D) Selimiye Camisi → Edirne

6. I- Şapka İnkılabı
II- Soyadı Kanunu'nun kabulü
III- Tekke, türbe ve zaviyelerin kapatılması
IV- Kadınlara belediye seçimlerine katılma hakkının tanınması

Yukarıda verilen yeniliklerden hangileri aynı yıl içerisinde kabul edilmiştir?

- A) I – II
- B) III – IV
- C) I – III
- D) II – III – IV

7. Aşağıdakilerden hangisi bilim insanına ait bir özellik değildir?

- A) Kararlılık
B) Sabırsızlık
C) Yaratıcılık
D) Gözlemcilik

8. Aşağıdakilerden hangisi sivil toplum kuruluşlarından biridir?

- A) Devlet daireleri
B) Belediyeler
C) Dispanserler
D) Dernekler

9. Aşağıdaki anayasalarımızdan hangisinde “Yasama – Yürütme ve Yargı” yetkileri tamamen Türkiye Büyük Millet Meclisi’ne verilmiştir?

- A) 1982 Anayasası’nda
B) 1961 Anayasası’nda
C) 1924 Anayasası’nda
D) 1921 Anayasası’nda

10. I- Öğretim programlarını ve hizmetlerini planlayıp yürütmek

II- Ceza ve tutukevlerinin sorunlarını çözmek

III- Nüfus ve vatandaşlık hizmetlerini yürütmek

IV- Tarihî ve kültürel varlıkları korumak

Yukarıda verilen faaliyetlerden hangisi Adalet Bakanlığının görev alanı ile ilgilidir?

- A) Yalnız II
B) I – III
C) Yalnız IV
D) I – II – III

11. I- İskenderiye Feneri

II- Artemis Tapınağı

III- Rodos Heykeli

IV- Mausoleum (Mozole)

Yukarıda verilen ve “Dünya’nın Yedi Harikası” olarak kabul edilen eserlerden hangileri bugün Türkiye’de bulunmaktadır?

- A) Yalnız IV
B) I – II
C) II – IV
D) I – III – IV

12. Hasan’ın yaşadığı yörede yaz mevsiminin yağışlı geçmesi yetişmesine imkân sağlıyor. Böylece burada büyükbaş hayvancılık en önemli ekonomik faaliyet oluyor.

Paragrafta boş bırakılan yere aşağıdakilerden hangisi gelmelidir?

- A) Cılız bitkilerin
B) Ormanların
C) Gür otların
D) Pamuğun

13. İstanbul, ülkemizde nüfusun en sık ve en fazla olduğu ildir.

Bunda İstanbul’un hangi özelliğinin etkisi yoktur?

- A) Zengin bitki örtüsünün
B) Yoğun sanayi kuruluşlarının
C) Uygun iklim şartlarının
D) Gelişmiş ulaşım sistemlerinin

14.



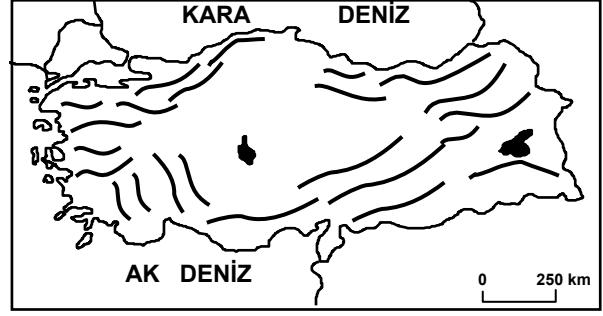
Yukarıdaki grafikte bir ilin bazı ekonomik faaliyetlerinden sağladığı gelirler gösterilmiştir. Buna göre il, hangi ekonomik faaliyetten daha çok gelir sağlamıştır?

- A) Balıkçılık
B) Arıcılık
C) Turizm
D) Tarım

15. Bitki örtüsünün cılız, eğimin fazla olduğu yamaçlarda aşırı kar yağışı aşağıdaki doğal afetlerden hangisine neden olur?

- A) Heyelan
B) Çığ
C) Deprem
D) Kuraklık

16.



Türkiye'nin önemli sıradağlarının gösterildiği haritaya bakılarak yapılan aşağıdaki yargılardan hangisi yanlıştır?

- A) Dağlar Kuzey Anadolu kıyılarına paralel uzanır.
B) Dağların genel uzanışı kuzey güney yönündedir.
C) İç kesimlerde yeryüzü şekilleri daha sadedir.
D) Batı Anadolu'da dağlar kıyıya dik uzanmaktadır.

17. Zarar eden bir televizyon fabrikasının sahibi aşağıdakilerden hangisini yaparsa kâr etmeye başlar?

- A) Yeni teknolojik gelişmeleri takip ederse
B) Ürettiği televizyonlar kalitesiz olursa
C) Tüketicilerden gelen talep ve şikâyetleri dikkate almazsa
D) Servis – yedek parça hizmetlerine önem vermezse

18. Ayşe Hanım, boş zamanlarında evinde dokuduğu kilimleri nasıl değerlendireceğini düşünürken, komşusu Ahmet Bey'in kızından güzel bir teklif alır; kilimler babasının mağazasında satılacaktır. Bu olaya çok sevinen Ayşe Hanım, çalışmalarını daha da hızlandırır.

Metinden yola çıkılarak aşağıdakilerden hangisine ulaşılır?

- A) Ahmet Bey mağazasında kıyafet satmaktadır.
- B) Ahmet Bey kilim satışından elde edilen gelirin yarısını alacaktır.
- C) Ayşe Hanım Ege Bölgesinin kilimlerini dokumuştur.
- D) Ayşe Hanım kilimleriyle aile bütçesine katkı sağlayacaktır.

19. Bu yıl sınıf öğretmenliği bölümünü bitiren Pınar, öğretmen olmak istiyor.

Buna göre Pınar'ın öğretmenlik başvurusunu hangi bakanlığa yapması gerekir?

- A) Sağlık Bakanlığına
- B) Kültür ve Turizm Bakanlığına
- C) Adalet Bakanlığına
- D) Millî Eğitim Bakanlığına

20. İlköğretim 5. sınıfta okuyan Ayşe, okulun tiyatro kulübüne oyuncu olarak katılıyor. Hafta sonları da mahallelerindeki basketbol oyun sahasında anne, baba ve kardeşiyle birlikte basketbol oynuyor.

Yukarıdaki açıklamada Ayşe'nin aşağıda verilen gruplardan hangisine katıldığı belirtilmemiştir?

- A) Okul
- B) Mahalle arkadaşlığı
- C) Aile
- D) Okul tiyatro kulübü

DİN KÜLTÜRÜ VE AHLÂK BİLGİSİ DERSİNİ OKUYANLAR AŞAĞIDAKİ SORULARI CEVAPLAYACAKLAR. OKUMAYANLAR BUNUN YERİNE, AYNI NUMARALI SOSYAL BİLGİLER SORULARINI CEVAPLAYACAKLAR.

21. Halife Ömer, bazı geceler şehri kontrol için dolaşırdı. Bir keresinde sütçülük yapan bir kadının kızına süte su katmasını söylediğini duyar. Kız:

- Yasak bir işi nasıl yapabilirim? diye annesine itiraz eder. Annesi:
- Halife Ömer seni nereden görecektir? der. Kız ise:
- Halife görmez ama, Rabb'im görür diye karşılık verir.

Küçük kızın bu yanıtı onun aşağıdaki ayetlerden en çok hangisini iyi anladığını gösterir?

- A) "Hakkında kesin bilgi sahibi olmadığın şeyin peşine düşme..."
- B) "Allah bir kimseyi ancak gücünün yettiği şeyle yükümlü kılar."
- C) "Şüphesiz Allah, kullarından haberdardır, onları hakkıyla görür."
- D) "Göklerde ve yerde ne varsa, hepsi Allah'ındır."

22. Aşağıdaki ayetlerden hangisi bir dua cümlesi değildir?

- A) "Rabbim! Küçüklüğümde onlar nasıl beni yetiştirmişlerse şimdi de sen onlara öyle merhamet et."
- B) "Ey iman edenler! Sabır ve namaz ile Allah'tan yardım isteyin."
- C) "Ey Rabbimiz! (Amellerin) hesap olunacağı gün beni, annemi, babamı ve bütün müminleri bağışla."
- D) "... Rabbim ilmimi artır."

23. Hz. Muhammed bir gün torunlarından birini kucağına almış öpüyordu. Hz. Muhammed'in bu davranışını gören arkadaşlarından biri şöyle dedi; "Benim on tane çocuğum var ama şimdiye kadar onların hiçbirisini öpmedim." Hz. Muhammed ona şöyle buyurdu; "Merhamet etmeyene merhamet edilmez."

Bu olay Hz. Muhammed'in hangi özelliğini ön plana çıkarmaktadır?

- A) Gönül kırıcı söz ve davranışlardan sakınma
 B) Çocuklar arasında kız – erkek ayrımı yapmama
 C) Çocuklara değer verme ve onlara olan sevgisini gösterme
 D) Çocukların görüşlerine önem verme
24. "Yavrucuğum! Namaz kıl, iyiliği emret, kötülükten vazgeçirmeye çalış, başına gelenlere sabret. Doğrusu bunlar azmedilmeye değer işlerdir. Küçümseyerek insanlardan yüz çevirme ve yeryüzünde böbürlenerek yürüme... (Lokman suresi, 17 – 18. ayetler)
- Kadriye ve Harun 5. sınıfta okuyorlar. Onlar yukarıdaki ayetleri okuyarak aşağıdaki ilkeleri çıkarttılar. Bu ilkelerden hangisinde yanlışlardır?
- A) İnsanlara iyiyi tavsiye etmek
 B) Alçak gönüllü olmak
 C) Sabırlı olmak
 D) Fikrinde ısrarcı olmak
25. Hz. Muhammed'in aşağıdaki örnek davranışlarından hangisi engellilere destek olma ve onları toplum hayatında etkin kılmakla ilgili değildir?
- A) Hz. Hamza'yı Uhut Savaşı'nda şehit eden Vahşi'yi affetmesi
 B) Bedensel özrü nedeniyle insanlardan uzak duran bir sahabiyi ticarete yönlendirerek topluma kazandırması
 C) Savaşa giderken görme özürlü Abdullah'ı Medine'ye yönetici olarak bırakması
 D) Yürüme engelli Muaz b. Cebel'i Yemen'e vali olarak göndermesi

DİN KÜLTÜRÜ VE AHLAK BİLGİSİ DERSİNİ OKUMAYANLAR, AŞAĞIDAKİ SOSYAL BİLGİLER SORULARINI CEVAPLAYACAKLAR. DİN KÜLTÜRÜ VE AHLAK BİLGİSİ DERSİNİ OKUYANLAR CEVAPLAMAYACAKLAR.

21. I- Türk Dil Kurumunun kurulması
 II- Tevhid-i Tedrisat Kanunu'nun kabul edilmesi
 III- Uluslararası Ölçü Birimlerinin kabulü
 IV- Halifeliğin kaldırılması
- Yukarıdaki inkılaplardan hangileri "Laiklik İlkesi" doğrultusunda yapılmıştır?
- A) Yalnız I
 B) Yalnız IV
 C) II – IV
 D) I – III – IV

22. Aşağıdakilerden hangisi kadınlara siyasal hakların verilmesiyle ilgilidir?
- A) İzmir İktisat Kongresi'nin toplanması
 B) Milletvekili seçme ve seçilme hakkının tanınması
 C) Medenî Kanun'un kabul edilmesi
 D) Halifeliğin kaldırılması

23. Cemal'in Antalya ilinde deniz kıyısında yer alan köyünün ekonomik yapısı değişmiştir. Portakal, limon ağaçlarının bulunduğu tarım alanlarında bugün dev oteller yükselmektedir.
- Buna göre Cemal'in köyünde hangi ekonomik faaliyetin önemi artmıştır?
- A) Sanayinin
 B) Madenciliğin
 C) Turizmin
 D) Balıkçılığın

24. İnsanların geçinmek ve ihtiyaçlarını karşılamak amacıyla yaptıkları etkinliklere ekonomik faaliyetler denir.

Buna göre aşağıdakilerden hangisi bir ekonomik faaliyet değildir?

- A) Hasan Bey'in dersane işletmesi
- B) Veli Dayı'nın koyun yetiştirilmesi
- C) Ümit Usta'nın lokantada aşçılık yapması
- D) Şenay Hanım'ın sokak köpeklerini beslemesi

25. Aşağıdaki sivil toplum örgütlerinden hangisinin etkinlikte bulunduğu alan yanlış verilmiştir?

- A) Eğitim Gönüllüleri Derneği – Doğal afetlerde ilk yardım
- B) Millî Eğitim Vakfı – Eğitimin desteklenmesi
- C) TEMA Vakfı – Çevrenin korunması
- D) Yeşilay – Sağlık hizmetlerinin desteklenmesi

TEST BİTTİ.

CEVAPLARINIZI KONTROL EDİNİZ.

Soracağınız bir şey var mı? Varsa şimdi sorunuz; sınav başladıktan sonra sorularınıza cevap verilmeyecektir. Hazır mısınız?

Sınav, okulun bütün salonlarında aynı anda başlayacağı için başlama zilini beraberce bekleyelim.

Hepinize başarılar dileriz.

(Salon başkanı başlama ve bitiş saatini tahtaya yazacaktır.)

Bu soru kitapçığının her hakkı saklıdır. Hangi amaçla olursa olsun, testlerin tamamının veya bir kısmının Millî Eğitim Bakanlığı Eğitim Teknolojileri Genel Müdürlüğünün yazılı izni olmadan kopya edilmesi, fotoğraflarının çekilmesi, bilgisayar ortamına alınması, herhangi bir yolla çoğaltılması, yayımlanması veya başka bir amaçla kullanılması yasaktır. Bu yasağa uymayanlar, doğabilecek cezaî sorumluluğu ve kitapçığın hazırlanmasındaki malî külfeti peşinen kabullenmiş sayılır.

**4 MAYIS 2008 TARİHİNDE YAPILAN
DPY VE BURSLULUK SINAVI 5. SINIF A TESTİ SORULARI CEVAP ANAHTARI**

TÜRKÇE TESTİ

1. C
2. B
3. A
4. B
5. D
6. D
7. B
8. A
9. C
10. D
11. B
12. A
13. D
14. A
15. A
16. C
17. B
18. C
19. A
20. A
21. D
22. A
23. C
24. C
25. D

MATEMATİK TESTİ

1. A
2. C
3. C
4. D
5. C
6. İPTAL
7. B
8. B
9. D
10. A
11. D
12. B
13. D
14. A
15. B
16. D
17. A
18. A
19. C
20. C
21. C
22. A
23. B
24. B
25. C

**FEN VE TEKNOLOJİ
BİLGİSİ TESTİ**

1. D
2. C
3. B
4. A
5. B
6. A
7. C
8. B
9. D
10. A
11. C
12. B
13. D
14. B
15. C
16. D
17. A
18. C
19. D
20. D
21. B
22. A
23. A
24. B
25. C

**SOSYAL BİLGİLER
TESTİ**

1. B
2. B
3. D
4. C
5. A
6. C
7. B
8. D
9. D
10. A
11. C
12. C
13. A
14. C
15. B
16. B
17. A
18. D
19. D
20. B
21. C
22. B
23. C
24. D
25. A

04.05.2008

Matematik Testinin 6. sorusu baskı hatası nedeniyle iptal edilmiştir.